

**Pracovní list – AFRIKA – příroda - 2.ročník a sexta**

Kontinent měří ..... mil km<sup>2</sup> a má .....mil. obyv.  
Je tak v pořadí rozlohy na ..... místě, v počtu obyvatel na ....  
místě ze všech kontinentů.

Afriku jako první Evropan obeplul: ..... v roce:

Koloniální mocnosti u uvedených států byly:

Nigérie Kamerun  
Angola Kongo-Zair (CDR)

Doba boje za nezávislost (na desítky let):

Rok Afriky:

Poslední stát, který získal nezávislost:

Krajní pevninské body leží v (země):

S: J:

Z: V:

Střední geografický bod leží v (stát):

Tři největší ostrovy jsou:

.....

a patří: .....

Který z nich má „světové“ parametry? .....


Dva největší poloostrovy:

Nejvyšší vrcholy uvedených států se jmenují a měří

Tanzanie Maroka  
Etioapie Kamerunu  
Jižní Afriky Kenji

\*Označ mezi nimi činné sopky,

Co je na fotografii



Co se děje v Africkém riftu:

Ve kterém místě je rift nejhlubší? .....

Nil měří i s pramennými toky přibližně ..... km:

Který jeho pramenný zdroj je nejdelší? .....

Co zvláštního je na výtoku Nilu z Viktoriina jezera?

Ústí Nilu má tvar:

Nejvodnatější řekou Afriky je:

Na které řece jsou vodopády:

Viktoriiny Stanleyovy  
Připiš pořadí ve vodnatosti afrických řek (sestupně)  
Nil Zambezi Kongo Niger

Na jakých řekách leží přehrady?

Násirova Kariba Owen Falls

Která z jezer jsou slaná (označ):


Njasa-Malawi šotty Čadské Viktoriino Tanganjika

Která z jezer jsou "příkopová"?

Tanganjika Ukerewe Njasa-Malawi Čadské

Jaké prameny jsou v pouštních oázách? .....

Které jezero je na snímku?



Které z moří kolem Afriky je nejslanější:

a proč? .....

Je v Africe ledovec? Pokud ano, kde?

Který ze států má nejteplejší místo

a) světový rekord - teplota ve stínu:

b) průměrná roční teplota


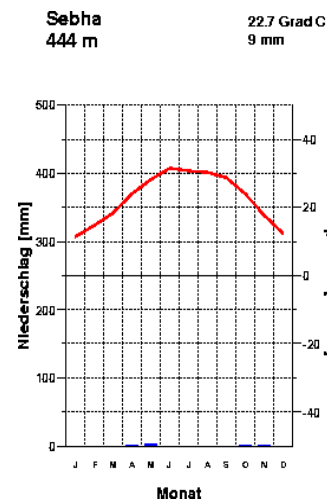
Který z uvedených států má nejvlhčí podnebí (označ):

Tanzanie Maroko Gabon Mosambik

Čím se liší rovníkové klima od tropického vlhkého:

.....

Odkud (klimatický pás) je klimadiagram?



Jaké (podle povahy zvětralin) jsou pouště:

ergy hamady

Jaký je teplotní rozdíl mezi noční a denní teplotou v poušti?

min: max: rozdíl:

Typickými stromy savan jsou:

a) b)

Endemickým živočichem Madagaskaru je::

Stromy na obrázku nalezneme ve volné přírodě (stát):

Ve kterých zemích jsou národní parky:

Kruger Etosha  
Tsavo Serengeti

Občanská válka proběhla nedávno (do 10 let) např. v:

Perspektivami rozvoje Afriky jsou:

Velkými problémy Afriky jsou:

Dva státy s velkou produkcí ropy?

a) b)

Příkladem státu "měďného pásu – copper belt" je:

Který mimoafrický stát se nejvíce „angažuje“ v dobývání surovin?

Co nejvíce rozhoduje o rozmístění průmyslových podniků:

Uveď příklady afrických typických plantážních plodin:

Na snímku je strom:



Co produkují v zemědělství pouštní státy Afriky?

Co brání v řadě východoafrických zemích v chovu zvířat?

V čem „vyniká“ Libérie?

Nápověda: doprava.



Kde žijí „malí“ lidé na snímku? Jak se jim říká?

Jakého hl. globálního etnika je většina obyvatel

Severní Afriky Jižní A.

Zařaď do regionů (třeba i států) Afriky:

Zuluové Křováci

Pygmejové Tuaregové

Masajové Ašantové

Největší města Afriky:

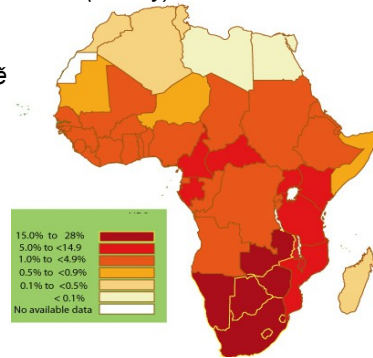
1. 2.

3. 4.

5.

Anglicky bychom se určitě domluvili v (3 státy):

Francouzsky bychom se určitě domluvili v (3 státy):



Animismus je:

Co je na mapě?

Známým africkým politikem současnosti je např.:

Jaké formy turistického ruchu najdeme v Africe?



V egyptské Gíze najdeme:

Odkud je snímek vpravo?

Co je safari a kde se pořádají?

Z vlastní zkušenosti urči nebo najdi v materiálech českých CK místa přímořské rekreace v Africe.



Odkud je plakát?



Kde sídlí africké velení francouzské Cizinecké legie?

Komu patří vlajka?

Kdo je na fotografii (povinně jen chlapi)?



Které africké země postihly protivládní demonstrace v roce 2011?