

Konal(a) zkoušku

Vyloučen(a)

Nepřítomen(na) nebo nedokončil(a)

# MATEMATIKA NANEČISTO 5

22. 3. 2017

Jméno  
a příjmení

Kód  
žáka

Časový limit: 40 min.

## DIDAKTICKÝ TEST - STRANA 1 - 2

1

$$\begin{array}{r} 7\ 959 \\ - 1\ 209 \\ \hline 6\ 750 \end{array}$$

2 2.1

$$(28 + 12) : 4 + 6 = 16$$

2.2

$$4 \cdot (8 - 42 : 7 - 2 \cdot 1) = 0$$

3

8

4 4.1

60

4.2

60

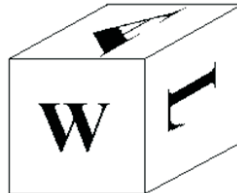
5 A N

5.1

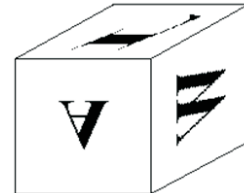
5.2

5.3

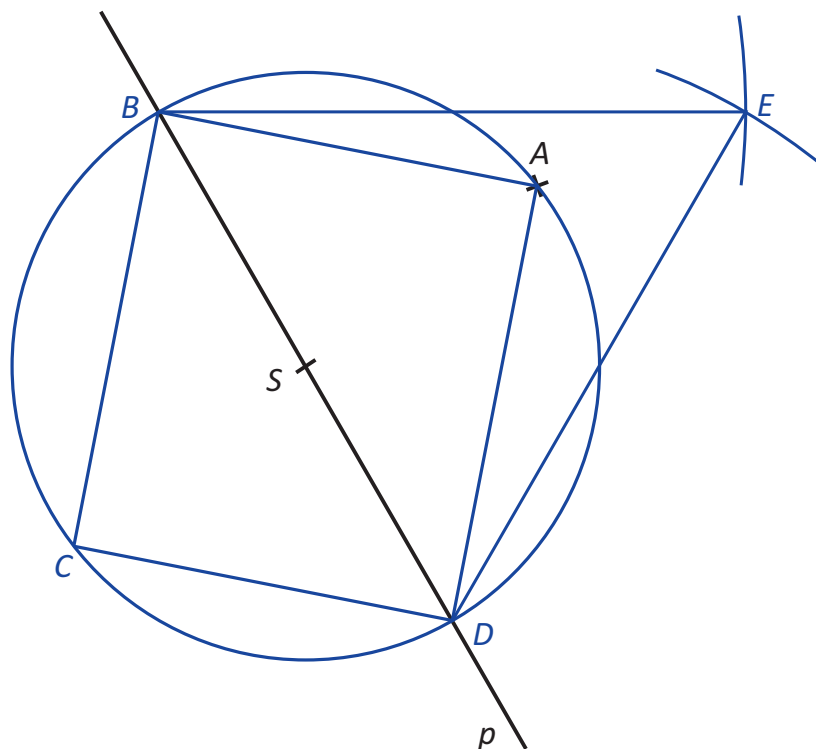
6 6.1



6.2

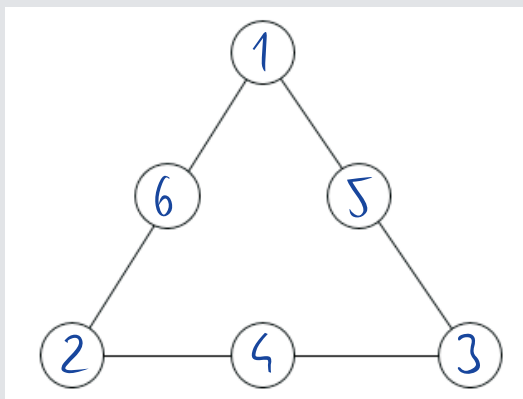


7 Obtáhněte všechny čáry propisovací tužkou.



	A	B	C	D	E
8	<input type="checkbox"/>	<input checked="" type="checkbox"/>	<input type="checkbox"/>	<input type="checkbox"/>	<input type="checkbox"/>
9	<input type="checkbox"/>	<input type="checkbox"/>	<input type="checkbox"/>	<input checked="" type="checkbox"/>	<input type="checkbox"/>

10



Pozn: úloha 10 má více správných řešení.